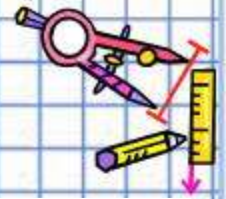




*Визначаємо  
порядковий номер  
об'єкта*

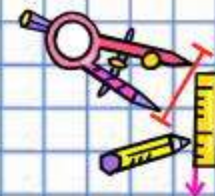




2

Скільки геометричних фігур? Полічи фігури зліва направо, справа наліво, хаотично. Що цікаве можна помітити?

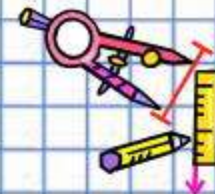




3

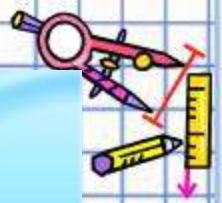
Скільки осіб на малюнку? Опиши кожну. Хто йде першим? другим? Який за порядком хлопець у капелюсі?

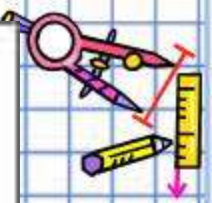


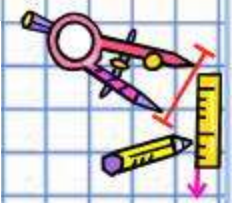


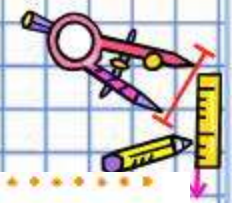
- **Порядковий номер об'єкта залежить від напрямку лічби.**












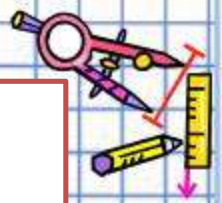




4

Скільки днів у тижні? Які їх назви? З якого дня розпочинається тиждень? Яка за порядком середа? субота?

Понеділок	Вівторок	Середа	Четвер	П'ятниця	Субота	Неділя
 1	 2	 3	 4	 5	 6	 7





- 
- 
- Що ми повторили на уроці?
  - Що треба зробити, щоб відповісти на запитання “Скільки?...”
  - Яких правил лічби слід дотримуватись?
  - У якому напрямку можна вести кількісну лічбу?
  - У чому суть порядкової лічби?
  - Що ви можете розказати про порядкову лічбу?
  - Які дні тижня ви знаєте?
  - Яка за порядком неділя? Середа?
- 
- 
- 
- 

# Інтерактивні завдання

- <http://interactive.ranok.com.ua/theme/contentview/pdrychni-ki/matematika-pidrychnik-dlya-1-klasy-zakladv-zagalno-seredno-osvti/9395-viznachamo-poryadkoviyi-nomer-obkta/21409-viznachamo-poryadkoviyi-nomer-obkta-s-11?direct>

